

Demostración De Web y Temas

Grado 1 - Matemáticas

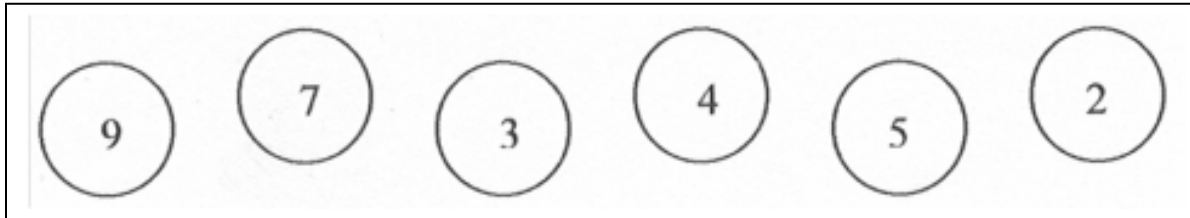
1) 50 centavos + 30 centavos = _____ centavos.

- 1) 90 centavos
- 2) 80 centavos
- 3) 70 centavos
- 4) 60 centavos

2) ¿Cuál es la suma de 45 y 52?

- 1) 93
- 2) 94
- 3) 87
- 4) 97

3) Mire los 6 números. ¿El que dos números hacen 11?



- 1) 5 y 2
- 2) 5 y 3
- 3) 7 y 3
- 4) 9 y 2

4) Dona compraron 19 manzanas el lunes y 48 manzanas el martes. ¿Cuántas más manzanas Renee compra el martes que el lunes?

Dona comprado _____ Más manzanas el martes.

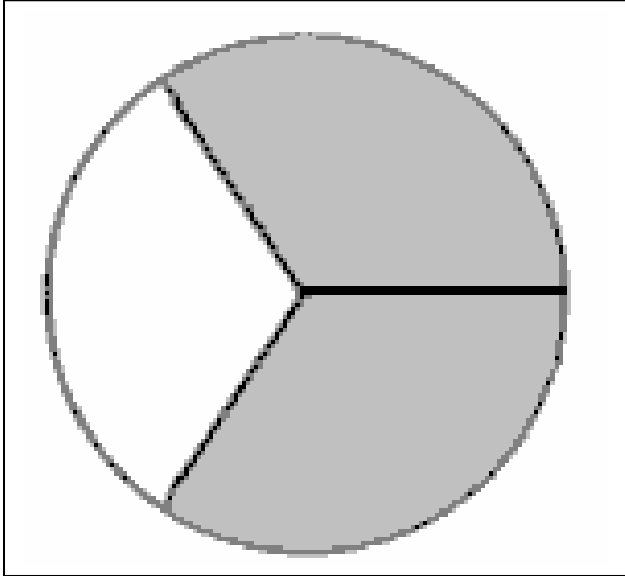
- 1) 28
- 2) 39
- 3) 29
- 4) 30

5) Hay 53 muchachas y 27 muchachos en el pasillo de la escuela.
¿Cuántos los estudiantes están allí en el pasillo de la escuela?

Hay _____ estudiantes en el pasillo de la escuela.

- 1) 60
- 2) 80
- 3) 70
- 4) 75

6) Cuanto del círculo es protegido del sol.

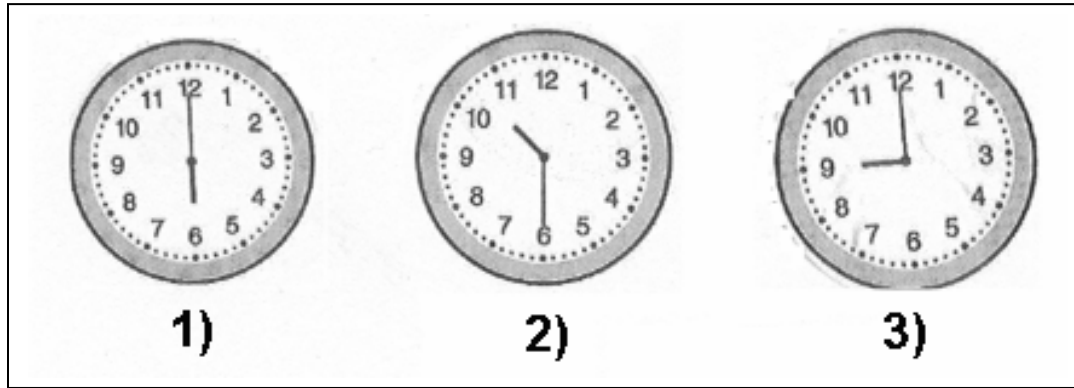


- 1) $1/4$
- 2) $1/3$
- 3) $1/2$
- 4) $2/3$

7) 59 pájaros vuelan. 16 de ellos dejan de descansar sobre un árbol.
¿Cuántos los pájaros todavía vuelan?

- 1) 41
- 2) 42
- 3) 43
- 4) 44

8) ¿El que el reloj lee 10:30?






9) ¿Cuánto más el libro cuesta que el gorro?



- 1) 17 \$
- 2) 16 \$
- 3) 18 \$
- 4) 19 \$




10) ¿Cuántos más pájaros están allí que perros?

Pájaro	
Perro	
Conejo	

- 1) 1
- 2) 2
- 3) 3
- 4) 4

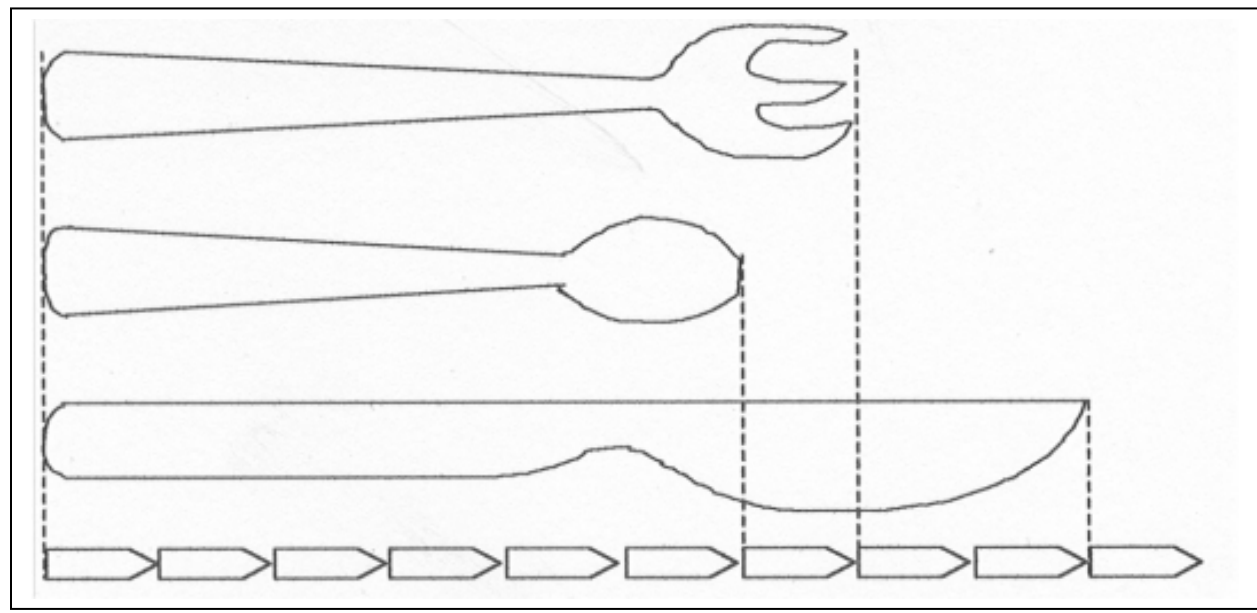
Grado 1 - Preguntas de Ensayo


- 1) El números justo antes de 6 decenas y 5 es
- 2) ¿Cuál es la suma de 34 y 52?
- 3) Juan tenía 65 sellos. él usó 15 sellos y dió 8 sellos a su hermano.
¿Cuántos los sellos él tienen izquierdo?
- 4) ¿Cuánto 5 \$ cuentas arregla 50 \$? _____
- 5) Hay_____ más pájaros que conejos.

Animales en una tienda de animales	
Pájaro	
Perro	
Conejo	


6) Linda hizo 35 tarts, Dotie hizo más 24 tarts que Jane. ¿Cuánto tarts Dotie hace?
 Dotie hecho _____ tarts.

7) Mira el cuadro debajo y contesta la pregunta



El cuchillo es  más largo que la cuchara.

8) Me levanto en _____ por la mañana.



9) ¿Cuánto más el libro cuesta que el gorro?

<p>Libro</p>  <p>24 \$</p>	<p>Camisa</p>  <p>9 \$</p>	<p>Gorro</p>  <p>7 \$</p>
---	--	--

10) Nori compró 17 manzanas el lunes y 46 manzanas el martes.
¿Cuántas más manzanas Renee compra el martes que el lunes?
Nori comprado _____ más manzanas el martes.

Grado 1 - Matemáticas - Parte 1

Cómputo y Valoración - Sentido de Número
Fracciones
Funciones de Modelo y álgebra
Representaciones Algebraicas - relaciones
Geometría y Medida
Medida
Análisis y Organización de Datos
Probabilidad y Estadística

Grado 1 - Matemáticas - Parte 2

Cómputo y Valoración - Sentido de Número
Fracciones
Funciones de Modelo y Álgebra
Representaciones Algebraicas - relaciones
Geometría y Medida
Medida
Análisis y Organización de Datos
Probabilidad y Estadística