


# Demostración De Web y Temas

## Grado 2 - Geografía

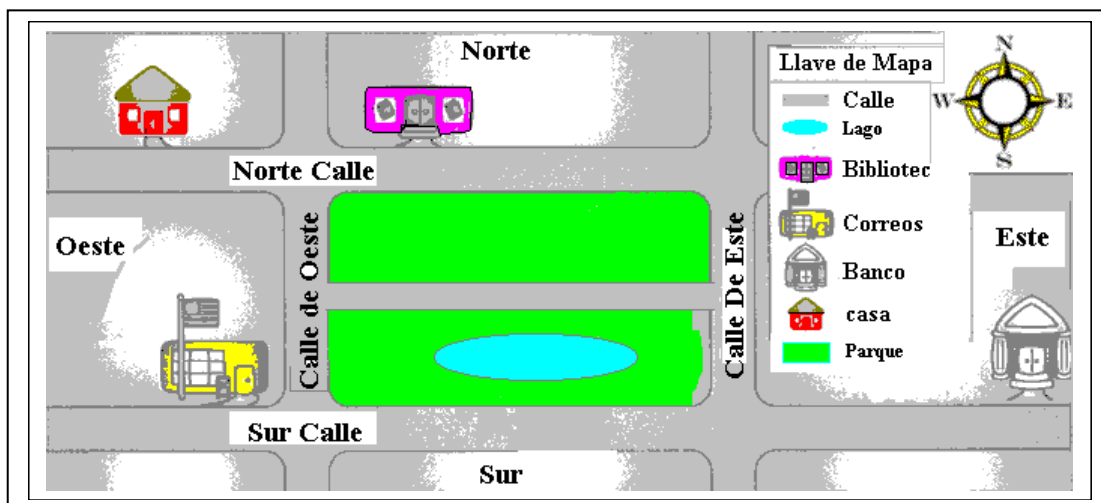
1) La primera cosa la que usted tiene que aprender es las direcciones. norte, sur, este, y oeste, Al norte, Sur, el Este, y el Oeste, Mira el gráfico a continuación.  
Al norte es lo más importante.



Al norte es la dirección hacia Polo Norte.  
Sur es la dirección que está parte de enfrente de Al norte.  
Si usted se enfrenta al norte, el oeste está a la izquierda, y el este en a la derecha.

La S significa \_\_\_\_\_.  
La W significa \_\_\_\_\_.  
La E significa \_\_\_\_\_.  
La N significa \_\_\_\_\_.

2) Usa el llave de mapa trazan un mapa de la brújula para contestar las preguntas.



- ¿Qué el color es usado para el lago?
- ¿Qué el color es usado para el parque?
- ¿Está el parque Al norte o Sur de la biblioteca?
- ¿Está la charca en el Al norte o Sur de calle de parque?

3) Un llano es plano.



Llaman un lugar muy seco un desierto.



Un valle es una tierra baja entre montañas o colinas.



Una montaña es muy alta



Una colina es la tierra que es más alta que un llano, pero no es una alta como una montaña.



Una isla es la tierra que tiene el agua todos alrededor de ello.



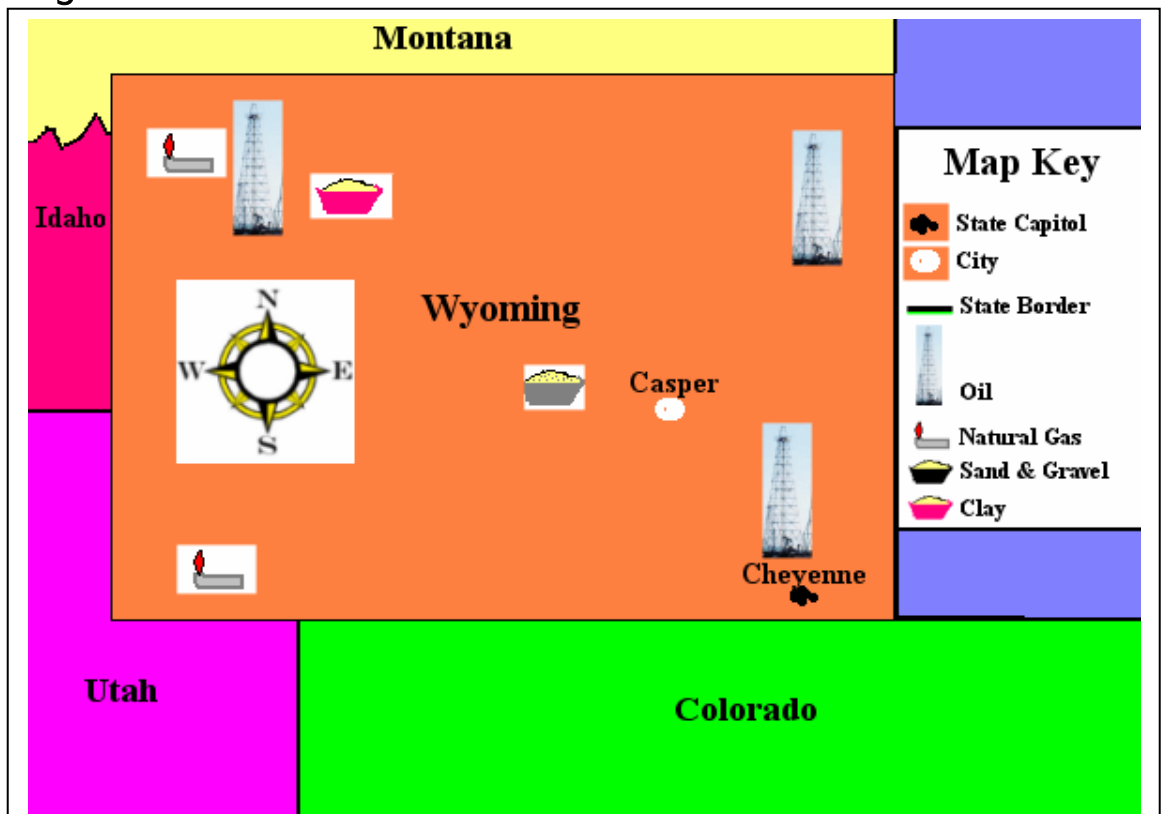
- A) ¿Qué tipo de la tierra es bueno para la agricultura?
- B) ¿Qué por lo general fluye por un valle?
- C) ¿El cual es más alto una montaña o la colina?
- D) ¿Qué los tipos de tierra usted observa en el cuadro debajo?



- E) ¿Qué los tipos de tierra usted observa en el cuadro debajo?



4) Wyoming tiene unos recursos.



- A) Arcilla es encontrada en Sur. Sí o No
- B) La mayor parte del aceite es encontrado en este. Sí o No
- C) Aceite es encontrado cerca de Cheyenne. Sí o No
- D) El gas natural es encontrado en oeste de Wyoming. Sí o No
- E) La arena y la grava son encontradas cerca de Casper. Sí o No

## Grado 2 - Geografía - Temas

Vistas Aéreas - Objetos que se Identifican

Continentes

Br jula

Direcciones

Mapa de carreteras

Líneas de Rejilla

Interpretación de Mapa

Formas de la tierra

Recursos